

INTERNETES HITTANVERSENY

5-6. osztály

III. forduló

Beküldési határidő: 2019. február 17.

Beküldési űrlap elérhetősége: <https://goo.gl/forms/mfKscEnWhS4tPer62>

Eredményed megtekintése: <https://docs.google.com/spreadsheets/d/12FBOhcHhK3NQFykRQen-7wMt94gfnwfKvgB1MAwP57s/edit?usp=sharing>

Kérdés, kérés, probléma esetén: nagye@pecs.egyhazmegye.hu

Név: _____


Összesített pontszám: / 54 pont

1. Feladat: A karácsonyi időszak az évközi időnek adta át a helyét, ami megannyi szent ünnepét tárja elénk. Néhány eucharisztikus szentünk arra vár, hogy felfedhesse kilétét, ebben kéri a te segítségedet. **20 pont**

- a) Keresd meg a képek szereplőit, és írd a kép alatti vonalra a nevüket! *(Segítenek az összekeveredett nevek a képek alatt. Párosíts a megfelelő elő- és utótagokat a keresztnevekkel, és már helyesen írd őket a kép alatti vonalakra.)* **5 pont**



A. Név: _____




B. Név: _____



C. Név: _____



D. Név: _____



E. Név: _____

Összekeveredett nevek: *Szent Assisi Klára, Szent Tarzícusz atya, Szent Sziénai János, Szent Katalin, Szent Vianney Pio*

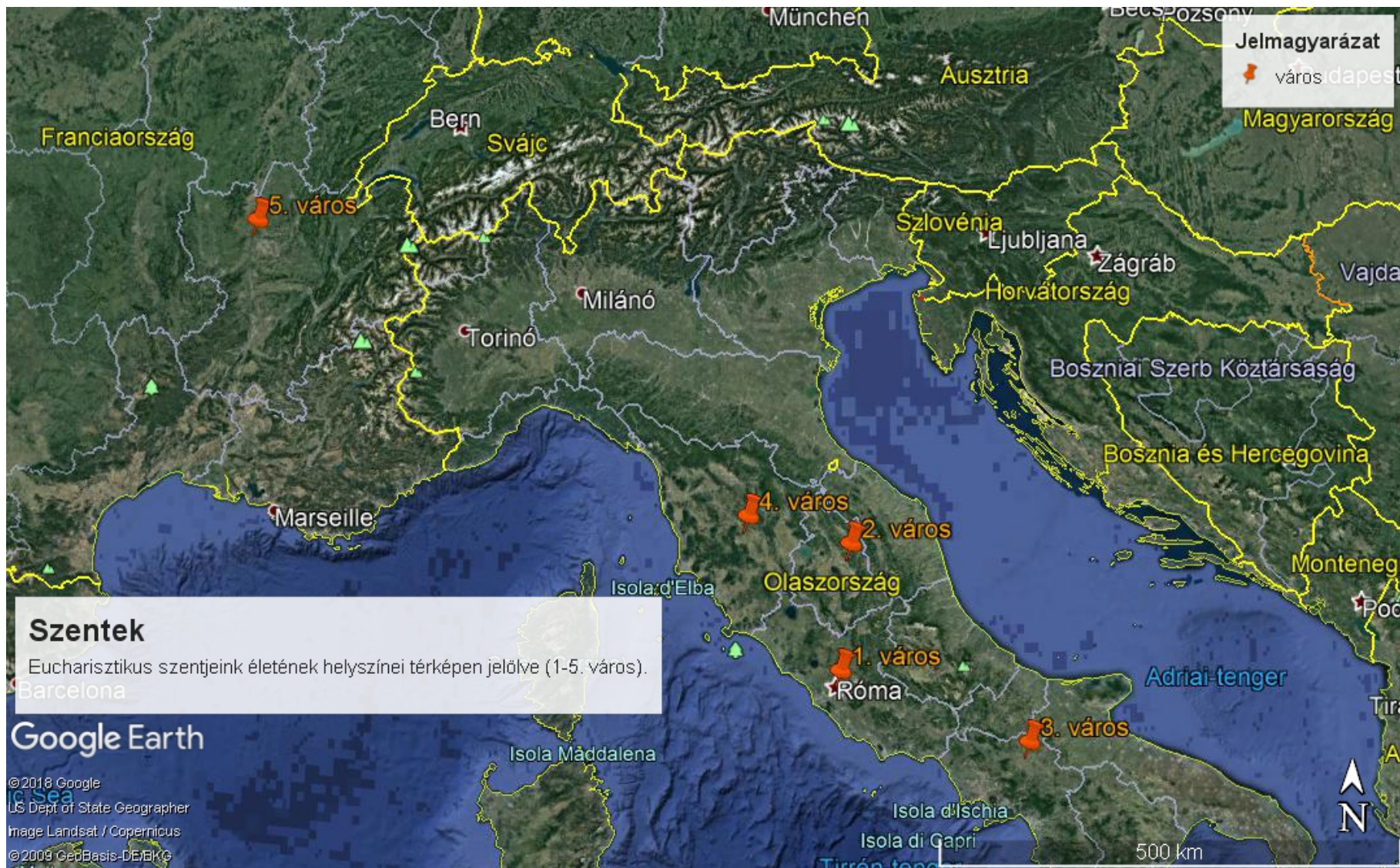
- b) **Tedd időrendbe a szenteket aszerint, hogy mikor éltek!** (Elég a szenteket az a) feladatban megjelölt betűvel jelölnöd, majd azokat időrendi sorrendben a vonalakra írnod, így pl. a helyes sorrendet így jelölöd: A B C D E). **A legkorábban élt szenttel kezd a sort!** 5 pont

- c) **Keresd meg a térképen a születési városukat!** (Nézz utána, hogy az a) feladatban szereplő szentek melyik városban születtek. Ezeket a városokat felsorolva közvetlenül a feladatleírás alatt találod, 1-5. város megjelöléssel pedig a térképen látod őket ábrázolva, de a te feladatod, hogy megtaláld, melyik város hol helyezkedik el. Írd az alábbi táblázatba az 1-5. városok mellé a tényleges városneveket, majd írd melléjük az ott született szentek betűjeleit is, pl. 1. város – Pécs - A.) 10 pont

városok megnevezései: Assisi, Dardilly, Pietrelcina, Róma, Sziéna

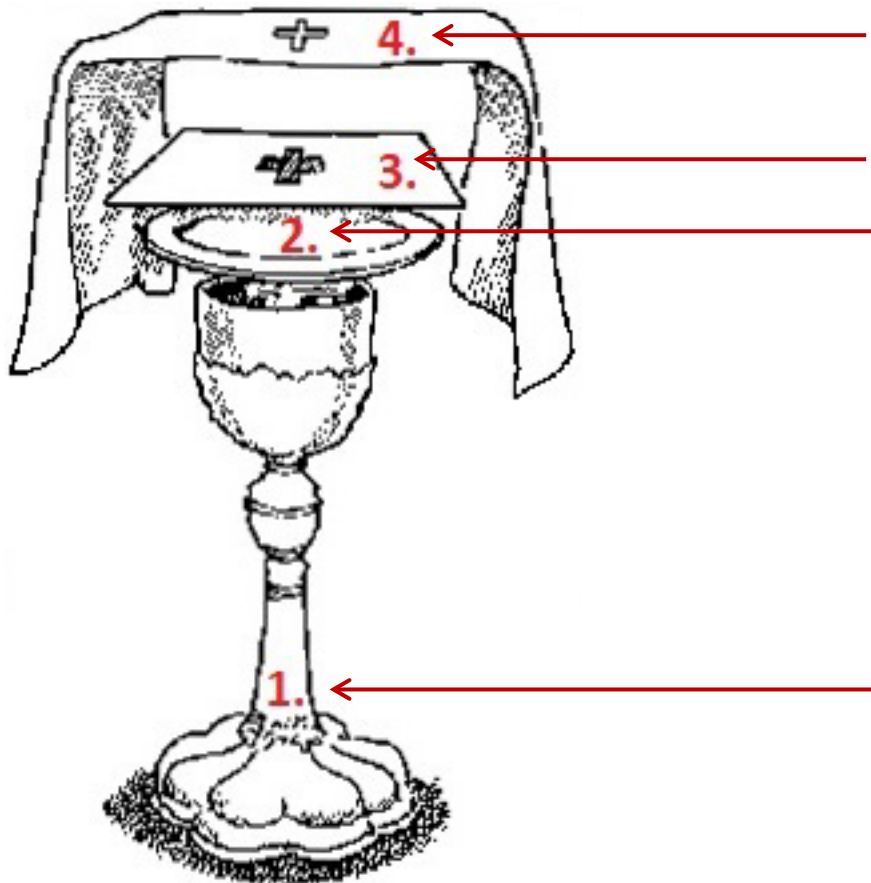
Város a térképen	Város megnevezése	Ott született szent betűjele
1. város		
2. város		
3. város		
4. város		
5. város		

(A térképet a következő oldalon találod.)



2. Feladat: Eucharisztikus életünk középpontjában a szentmisének kell elhelyezkednie, hiszen ott minden egyes alkalommal az Úrral találkozunk. Ahogy Ferenc pápa is fogalmazott: „szeretettelálok Istennel igéjén, valamint Jézus testén és vérén keresztül”. Ebben a feladatban az Eucharisztia liturgiájával kapcsolatban kell válaszolnod a kérdésekre. 24 pont

a) Az alábbi képen a szentmisén használatos kelyhet látod, annak valamennyi tartozékával. Nevezd meg a számmal jelölt tárgyakat a nyilak végén! 4 pont



b) Az alábbi kérdésekre válaszold ki a helyes választ, majd húzd is alá!

10 pont

I. Mi az ostya?

- A. búzalisztból készült, kelesztett, sült kenyér
- B. búzalisztból készült, kelesztés nélküli, sült kenyér
- C. búzalisztból készült, kovásztalan, főzött kör alakú pékárú

II. A szentmisében a szentostya mire utal?

- A. Istennek feláldozott égőáldozatokra.
- B. Jézusnak a tanítványokkal elfogyasztott vacsoráira.
- C. Jézus keresztáldozatára.

III. A kora középkortól kezdve sokáig kiknek a feladata volt az ostyasütés?

- A. pápa
- B. papok, szerzetesek
- C. templomtakarítók

IV. Mi a kehely a szentmisében?

- A. Az átváltoztatásra kerülő bor befogadására szolgáló talpas ivóedény.
- B. Az átváltoztatásra kerülő bort és vizet tartalmazó üveg vagy fém edény.
- C. Az átváltoztatásra kerülő szentostyát tartalmazó edény.

V. Az alábbiak közül melyik a kehelykendő latin neve?

- A. ampolna
- B. navikula
- C. purifikatórium

VI. A kehelyvélum színének mivel kell megegyeznie?

- A. A templom színével.
- B. Mindig csak fehér lehet.
- C. A miseruhával.

VII. Mitől védi a palla a kelyhet?

- A. A borba szálló rovaroktól, szennyeződésektől.
- B. A borba kerülő víztől.
- C. A ministránsok kíváncsi szemeitől.

VIII. Mi a burza?

- A. Hatszögletű zárt tok, a korporálét tartalmazza.
- B. Három oldalról zárt tok, a korporálét tartalmazza.
- C. Perselypénzt tartalmazó erszény.

IX. Miből készülhet a misebor?

- A. almából
- B. bármilyen gyümölcsből
- C. szőlőből

X. Át lehet-e változtatni külön a kenyeret és a bort?

- A. igen
- B. nem
- C. ünnepekkor megengedett

- c) **Néhány nagyon híres Úrmutató és ereklyetartó után kell most nyomoznod! Keress leírásokat az interneten az alábbi tárgyakról, és ezek segítségével egészítsd ki a mondatokat az üresen álló helyeken!** 10 pont

- I. A Szendrői Monstrancia tetején _____ található.
- II. A Szendrői Monstrancia _____ stílusban épült.
- III. Az ebesi katolikus kápolnában látható Úrmutató nem régi alkotás, _____ évben készült.
- IV. Az ebesi monstrancia különlegessége, hogy az aranyozás mellett _____ és _____ színű drágakövek díszítik.
- V. A Bátai Szent Vér ereklye a 2018-as évben kapott új ereklyetartót, ami _____ Tibor alkotása.
- VI. A Szent Vér korábbi _____ alakú ereklyetartója most Boldog _____ János ereklyéjének ad otthont.
- VII. A Ludbregben található híres Szent Vér ereklye _____ városából származik, amit _____ évben Batthyány gróf özvegye ajándékozott a városnak, hogy méltó tartója legyen az ereklyének.

3. **Feladat: Ha eddig kitartóan részt vettél a versenyben, számos internetes honlappal megismerkedhettél, különösen a Nemzetközi Eucharisztikus Kongresszus hivatalos honlapjával, valamint egyházmegyéd oldalával. Most ideje megmutatnod, hogy te hogyan képzeld el a saját honlapodat, ami a NEK népszerűsítését szolgálja. Válassz egyet a három lehetőség közül, majd ábrázold elképzeléseidet rajz, írás segítségével!** 10 pont

Az alábbi lehetőségek közül egyet válassz:

- iskolai honlap egy rovata
- plébániai honlap egy rovata
- egyházmegyei honlap egy rovata

*A megfelelő szinten tervezd meg rovatodat, ami az adott honlapról nyílik. **Fontos, hogy ne honlapot hozz létre, hanem csak írd és rajzold le nekünk, hogy hogyan képzeld azt el.***

Szükség esetén egy A/4-es lapon vagy itt egy új oldalon rajzold le, hogy az oldalon mi, hol helyezkedne el, majd nevezd is el az egyes elemeket. Az egész hasonlítson egy tervrajzhoz, amiből számunkra kiderül, hogy milyen elemekkel szeretnéd megtölteni az oldaladat (képek, videók, hivatkozások más oldalakra, szimbólumok, szövegek, leírások, menüpontok, stb.), majd mutasd is meg ezt színesben számunkra. A tervezetet csatolhatod külön dokumentumként is a feladatlaphoz (kép vagy egyéb formátumban).

.....
(A feladatmegoldás inentől fakultatív, nem von le a feladatra adható pontok összegéből, plusz pont jár érte, a benyújtott beszámoló alapján **maximum 3 pont** adható rá, amely a verseny végén osztás/átszámítás nélkül kerül összeadásra az összesített pontokkal.)

♥ Minden szentmisén Jézus Krisztus vár bennünket, azonban mi sokszor figyelmetlenül elmegyünk mellette. A találkozás akkor tud ünnepivé válni, ha értjük azt, ami ott történik, és a közösség aktív tagjaként mi magunk is részt veszünk benne. Már egészen kisgyermek kortól vannak olyan liturgikus történések, amelyek elősegítik ezt a megértést. A feladatod most az, hogy írd minél több olyan ötletet, amellyel te is be tudsz kapcsolódni a szentmise cselekményébe. Nem baj, ha egyelőre még erre nincs lehetőség a plébániádon. Találd ki bátran olyan tevékenységeket, amellyel te is emelni tudod a szentmise fényét (az előkészületektől egészen a szentmise végéig). Ezeket úgy gyűjtsd ide össze, hogy a szentmise részeit is megnevezed, amihez kapcsolódik!