

INTERNETES HITTANVERSENY

7-8. osztály

III. forduló

Beküldési határidő: 2019. február 17.

Beküldési űrlap elérhetősége: <https://goo.gl/forms/mfKscEnWhS4tPer62>

Eredményed megtekintése: <https://docs.google.com/spreadsheets/d/12FBOhcHhK3NQFykRQen-7wMt94gfnwfKvgB1MAwP57s/edit?usp=sharing>

Kérdés, kérés, probléma esetén: nagye@pecs.egyhazmegye.hu

Név: _____


Összesített pontszám: / 56 pont

1. Feladat: A karácsonyi időszak az évközi időnek adta át a helyét, ami megannyi szent ünnepét tárja elénk. Néhány eucharisztikus szentünk arra vár, hogy felfedhesse kilétét, ebben kéri a te segítségedet. 20 pont

- a) Keresd meg a képek szereplőit, és írd a kép alatti vonalra a nevüket! *(Segítenek a hiányos nevek a képek alatt. Keresd meg a megfelelő elő- és utótagokat a keresztneveknél, és már helyesen írd őket a kép alatti vonalakra.)* 5 pont



A. Név: _____




B. Név: _____



C. Név: _____



D. Név: _____



E. Név: _____

Hiányos nevek: Klára, Katalin, János, Pió, Tarzícusz

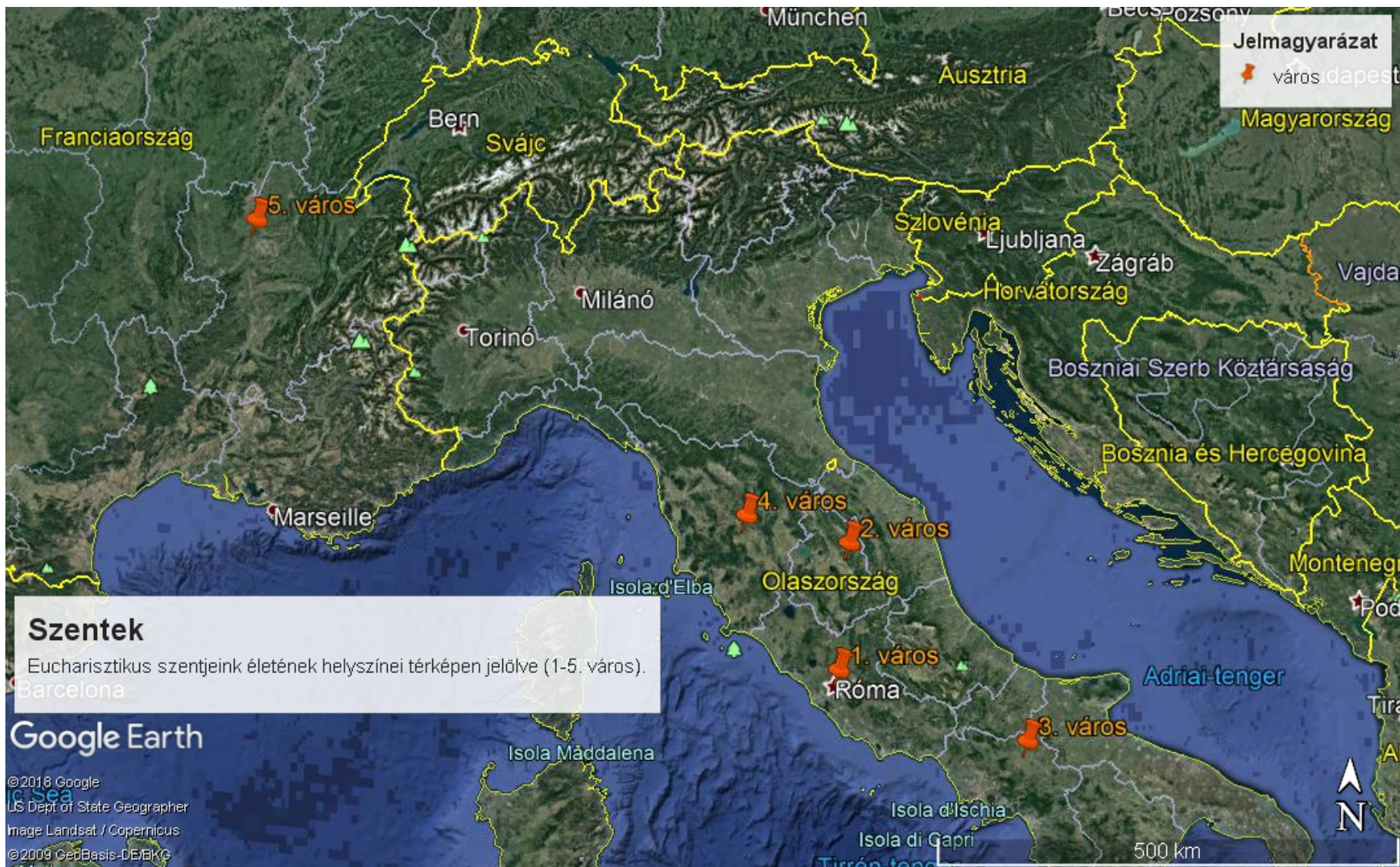
- b) **Tedd időrendbe a szenteket aszerint, hogy mikor éltek!** (Elég a szenteket az a) feladatban megjelölt betűvel jelölnöd, majd azokat időrendi sorrendben a vonalakra írnod, így pl. a helyes sorrendet így jelölöd: A B C D E). **A legkorábban élt szenttel kezd a sort!**

5 pont

- c) **Keresd meg a térképen a születési városukat!** (Nézz utána, hogy az a) feladatban szereplő szentek melyik városban születtek. Ezeket a városokat 1-5. város megjelöléssel találod a térképen, de a te feladatod, hogy megtaláld, melyik város hol helyezkedik el. Írd az alábbi táblázatba az 1-5. városok mellé a tényleges városneveket, majd írd melléjük az ott született szentek betűjeleit is, pl. 1. város – Pécs - A.) 10 pont

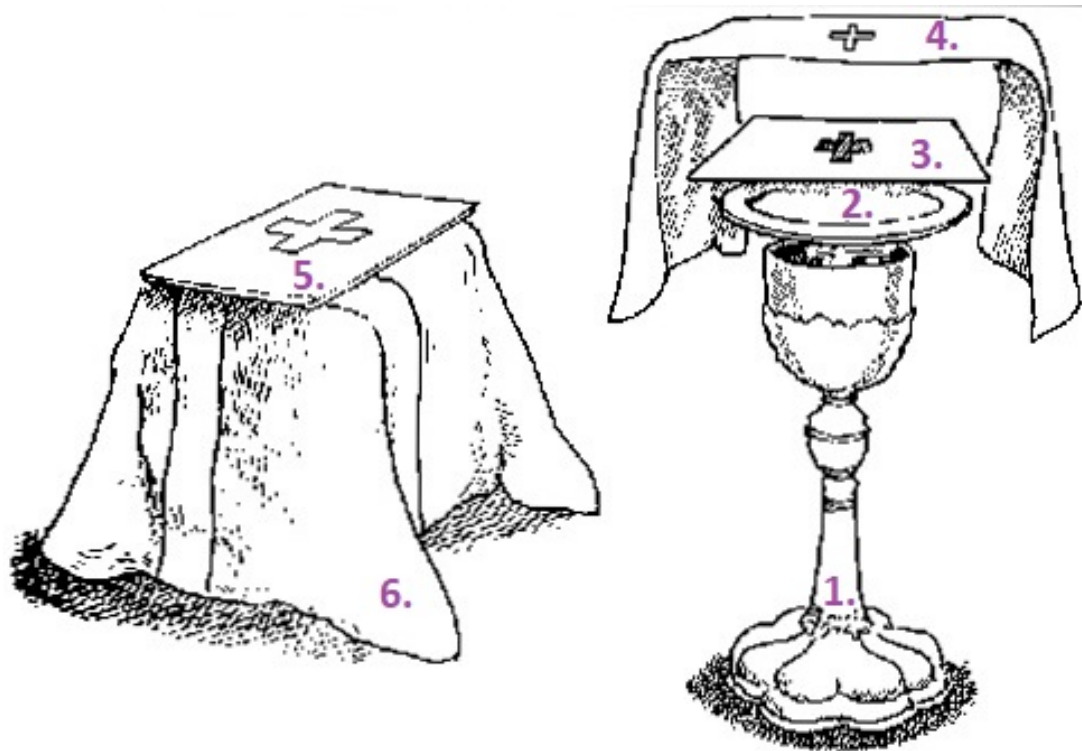
Város a térképen	Város megnevezése	Ott született szent betűjele
1. város		
2. város		
3. város		
4. város		
5. város		

(A térképet a következő oldalon találod.)



2. Feladat: Eucharisztikus életünk középpontjában a szentmisének kell elhelyezkednie, hiszen ott minden egyes alkalommal az Úrral találkozunk. Ahogy Ferenc pápa is fogalmazott: „szeretettelálkozás Istennel igéjén, valamint Jézus testén és vérének keresztül”. Ebben a feladatban az Eucharisztia liturgiájával kapcsolatban kell válaszolnod a kérdésekre. 26 pont

a) Az alábbi képen a szentmisén használatos kelyhet látod, annak valamennyi tartozékával. Nevezd meg a számmal jelölt tárgyakat a kép alatt a megfelelő sorban! 6 pont



- 1.
- 2.
- 3.
- 4.
- 5.
- 6.

b) Az alábbi kérdésekre válaszold ki a helyes választ, majd húzd is alá!

10 pont

1. Mi az ostya?

- A. búzalisztból készült, kelesztett, sült kenyér
- B. búzalisztból készült, kovásztalan, sült kenyér
- C. búzalisztból készült, kovásztalan, főzött kör alakú pékárú

II. A szentmisében a szentostya mire utal?

- A. terményáldozatra
- B. égőáldozatra
- C. keresztáldozatra

III. A kora középkortól kezdve sokáig kiknek a feladata volt az ostyasütés?

- A. templomi szolga
- B. papok, szerzetesek
- C. harangozó

IV. Mi a kehely a szentmisében?

- A. Az átváltoztatásra kerülő bor befogadására szolgáló talpas ivóedény.
- B. Az átváltoztatásra kerülő bort és vizet tartalmazó üveg vagy fém edény.
- C. Az átváltoztatásra kerülő szentostyát tartalmazó edény.

V. Az alábbiak közül melyik a kehelykendő latin neve?

- A. ampolna
- B. navikula
- C. purifikatórium

VI. A kehelyvélum színének mivel kell megegyeznie?

- A. Az oltáron elhelyezett virágok színével.
- B. Mindig csak fehér lehet.
- C. A miseruhával.

VII. Mitől védi a palla a kelyhet?

- A. A borba szálló rovaroktól, szennyeződésektől.
- B. A borba kerülő víztől.
- C. A hívektől.

VIII. Mi a burza?

- A. Négy oldalról zárt tok, a korporálét tartalmazza.
- B. Három oldalról zárt tok, a korporálét tartalmazza.
- C. Perselypénzt tartalmazó erszény.

IX. Miből készülhet a misebor?

- A. csak fehér szőlőből
- B. bármilyen gyümölcsből
- C. szőlő terméséből

X. Át lehet-e változtatni külön a kenyeret és a bort?

- A. igen
- B. nem
- C. ünnepekkor megengedett

c) **Néhány nagyon híres Úrmutató és ereklyetartó után kell most nyomoznod! Keress leírásokat az interneten az alábbi tárgyakról, és ezek segítségével egészítsd ki a mondatokat az üresen álló helyeken!** 10 pont

- I. A Szendrői Monstrancia tetején _____ található.
- II. A Szendrői Monstrancia _____ stílusban épült.
- III. Az ebesi katolikus kápolnában látható Úrmutató mai alkotás, _____ évben készült.
- IV. Az ebesi monstrancia különlegessége, hogy az aranyozás mellett _____ és _____ színű drágakövek díszítik.
- V. A Bátai Szent Vér ereklye a 2018-as évben kapott új ereklyetartót, ami _____ Tibor alkotása.
- VI. A Szent Vér korábbi _____ alakú ereklyetartója most Boldog _____ János ereklyéjének ad otthont.
- VII. A Ludbregben található híres Szent Vér ereklye _____ városából származik, amit _____ évben Batthyány gróf özvegye ajándékozott a városnak, hogy méltó tartója legyen az ereklyének.

3. **Feladat: Ha eddig kitartóan részt vettél a versenyben, számos internetes honlappal megismerkedhettél, különösen a Nemzetközi Eucharisztikus Kongresszus hivatalos honlapjával, valamint egyházmegyéd oldalával. Most ideje megmutatnod, hogy te hogyan képzeld el a saját honlapodat, ami a NEK népszerűsítését szolgálja. Válassz egyet a három lehetőség közül, majd ábrázold elképzeléseidet rajz, írás segítségével!** 10 pont

Az alábbi lehetőségek közül egyet válassz:

- iskolai honlap egy rovata
- plébániai honlap egy rovata
- egyházmegyei honlap egy rovata

*A megfelelő szinten tervezd meg rovatodat, ami az adott honlapról nyílik. **Fontos, hogy ne honlapot hozz létre, hanem csak írd és rajzold le nekünk, hogy hogyan képzeld azt el.** Szükség esetén egy A/4-es lapon vagy itt egy új oldalon rajzold le, hogy az oldalon mi, hol helyezkedne el, majd nevezd is el az egyes elemeket. Az egész hasonlítson egy tervrajzhoz,*

amiből számunkra kiderül, hogy milyen elemekkel szeretnéd megtölteni az oldaladat (képek, videók, hivatkozások más oldalakra, szimbólumok, szövegek, leírások, menüpontok, stb.), majd mutasd is meg ezt színesben számunkra. A tervezetet csatolhatod külön dokumentumként is a feladatlaphoz (kép vagy egyéb formátumban).

.....

*(A feladatmegoldás inentől fakultatív, nem von le a feladatra adható pontok összegéből, plusz pont jár érte, a benyújtott beszámoló alapján **maximum 3 pont** adható rá, amely a verseny végén osztás/átszámítás nélkül kerül összeadásra az összesített pontokkal.)*

♥ Minden szentmisén Jézus Krisztus vár bennünket, azonban mi sokszor figyelmetlenül elmegyünk mellette. A találkozás akkor tud ünnepivé válni, ha értjük azt, ami ott történik, és a közösség aktív tagjaként mi magunk is részt veszünk benne. Már egészen kisgyermek kortól vannak olyan liturgikus történések, amelyek elősegítik ezt a megértést. A feladatod most az, hogy írd minél több olyan ötletet, amellyel te is be tudsz kapcsolódni a szentmise cselekményébe. *Nem baj, ha egyelőre még erre nincs lehetőség a plébániádon. Találj ki bátran olyan tevékenységeket, amellyel te is emelni tudod a szentmise fényét (az előkészületektől egészen a szentmise végéig). Ezeket úgy gyűjtsd ide össze, hogy a szentmise részeit is megnevezed, amihez kapcsolódik!*